

受験番号			
------	--	--	--

令和7年度

精道三川台中学校 第1回入学試験問題

社 会

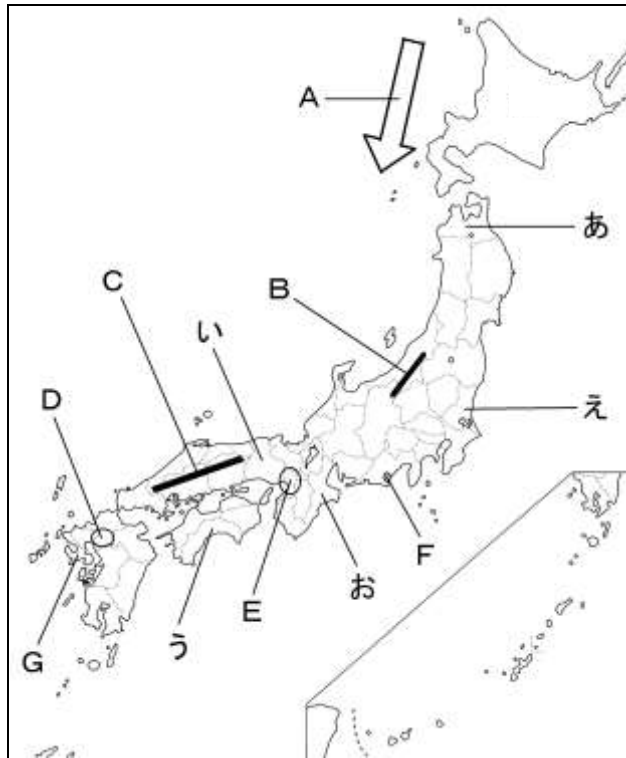
注 意

- 1 「始め」の合図があるまで、この問題冊子を開いてはいけません。
- 2 解答用紙は中にはさんであります。
- 3 「始め」の合図があったら、まず、受験番号を問題冊子および解答用紙の受験番号らんに記入しなさい。
- 4 問題は **1** ～ **3** で、1ページから6ページまであります。
- 5 答えは、すべて解答用紙に記入しなさい。
- 6 答えはてきせつな漢字を使用して書きなさい。また、国名を書くときは、指定がなければ正式名称で書かなくてもよい。
- 7 「やめ」の合図で、筆記用具を置きなさい。
- 8 試験終了後は、問題冊子および解答用紙を机の上に置いたまま指示があるまで待ちなさい。

1

次の地図を見て、あとの問いに答えなさい。

地図



問1 あ・い・うの都道府県名を答えなさい。

問2 え・おの都道府県の県庁所在地名を答えなさい。

問3 Aの海流名を答えなさい。

問4 B・Cの山地・山脈名とDの地域にある平野名を答えなさい。

問5 Eの地域には、3大工業地帯の1つがあります。この工業地帯の特徴を説明しなさい。

問6 Fの地域には、日本でも有数の漁獲量をほこる漁港があります。その漁港名を次のア～エの中から1つ選び、記号で答えなさい。

ア 境さかい

イ 沼津ぬまづ

ウ 石巻いしのまき

エ 焼津やいづ

問7 下の表の**ア**～**エ**の中から**G**の都道府県に当てはまるものを1つ選び、記号で答えなさい。

	ア	イ	ウ	エ
人口（人）	1,304,119	809,023	2,744,928	1,313,688
面積（km ² ）	4,132	2,440	8,479	5,676
農業生産額（億円）	839	754	1,476	1,232
工業生産額（億円）	2,833	2,315	8,514	3,347
漁業生産額（億円）	1,116	244	354	547

（2022年 総務省・国土地理院・経済産業省・農林水産省のデータより作成）

2

次のA～Dの文章を読んで、あとの問いに答えなさい。

A 聖徳太子が天皇の摂政となり、蘇我氏の協力のもと冠位十二階や十七条の憲法などを制定しました。また、小野妹子を（①）として中国に送り、中国の制度や文化を取り入れようとしてしました。

B （②）は、平治の乱で伊豆に流されましたが、天皇の呼びかけで兵をあげ、平氏を滅ぼして権力を強めました。その後、征夷大將軍となった（②）は、鎌倉幕府を開きました。

C 藤原道長やその子頼通は、娘を天皇のきさきにし、位の高い役職について政治の実権をにぎりました。豊かな貴族は（③）という屋敷を建てて住むようになりました。この頃、日本の風土や生活にあった文化が生まれました。

D 將軍の跡継ぎ争いから、京都を中心に約10年間におよぶ応仁の乱が occurred。そのときの將軍（④）は、戦乱をさげ自分の子に將軍の座をゆずり、東山に銀閣をつくりました。

問1 A～Dの文章中の（①）～（④）に当てはまることばを答えなさい。

問2 Aの文章の聖徳太子が摂政となった天皇の名前を答えなさい。

問3 Bの文章について、鎌倉幕府の將軍が3代で途絶えたあと、後鳥羽上皇が朝廷に実権を取り戻すために幕府を倒そうとしました。これを何というか答えなさい。

問4 Cの文章の藤原道長・頼通親子が行なった政治を何というか答えなさい。

問5 Cの文章の時代に最も関わりのある文章を次のア～エの中から1つ選び、記号で答えなさい。

- ア 倭寇と正式な貿易船を区別するために勘合という合札を使って貿易を行いました。
- イ 中国から帰国した最澄や空海は、日本に新しい仏教を伝えました。
- ウ 元は2度にわたり日本を攻めましたが、暴風雨にあい失敗に終わりました。
- エ 中国や朝鮮から移り住んだ渡来人は、日本にすぐれた技術や漢字を伝えました。

問6 Dの文章の時代と関わりのある資料を次のア～エの中から1つ選び、記号で答えなさい。

ア



イ



ウ



エ



問7 A～Dの文章を時代の古い順に左から記号で書きなさい。

問8 右の**写真**の遺跡^{いせき}に関わりの深い時代について、A～Dの文章にならって内容を考え、文章を作りなさい。

写真



3

あとの問いに答えなさい。

問1 日本国憲法の3原則は、国民主権・平和主義ともう1つは何か答えなさい。

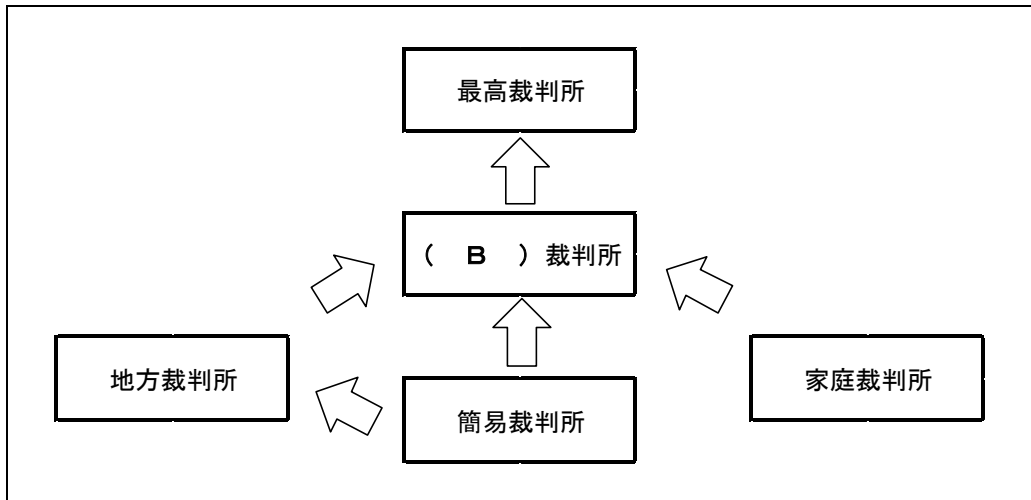
問2 日本の歳出^{さいしゅつ}（2023年）のうち、もっとも割合が多いものを次のア～エの中から1つ選び、記号で答えなさい。

ア 公共事業 イ 教育・文化関係 ウ 社会保障 エ 防衛関係

問3 障がいの有無や年齢^{れい}、性別や国籍^{こくせき}に関わらず、誰にとっても使いやすい製品や施設^{しせつ}をつくるという考え方を何というか答えなさい。

問4 次の裁判所のしくみと会話文を見て、あとの問いに答えなさい。

【裁判所のしくみ】



【会話文】

先生： 今日の授業は、裁判所のしくみについて勉強します。裁判所は悪いことをした人を裁いたり、人と人のトラブルを解決したりする（ A ）機関です。

児童A： テレビのドラマとかで観たことある。

先生： 裁判所は簡易裁判所、家庭裁判所、地方裁判所、（ B ）裁判所、最高裁判所があります。

児童B： 先生、最高裁判所って1番えらい裁判所なの？何か特別な裁判所なの？

先生： うん、最高裁判所は違憲立法審査権いけんりつぽうしんさけんといって を持っているんだよ。

児童B： へー、最高裁判所ってすごい裁判所なんだね。

児童C： 先生、そういえばお父さんが最高裁判所の裁判官をやめさせることができるって言ってた。お父さんにそんなことできはズないって言ったけど…。

先生： お父さんが言ってることは本当だよ。国民は、Cやめさせたい裁判官に投票してやめさせることができるんだよ。

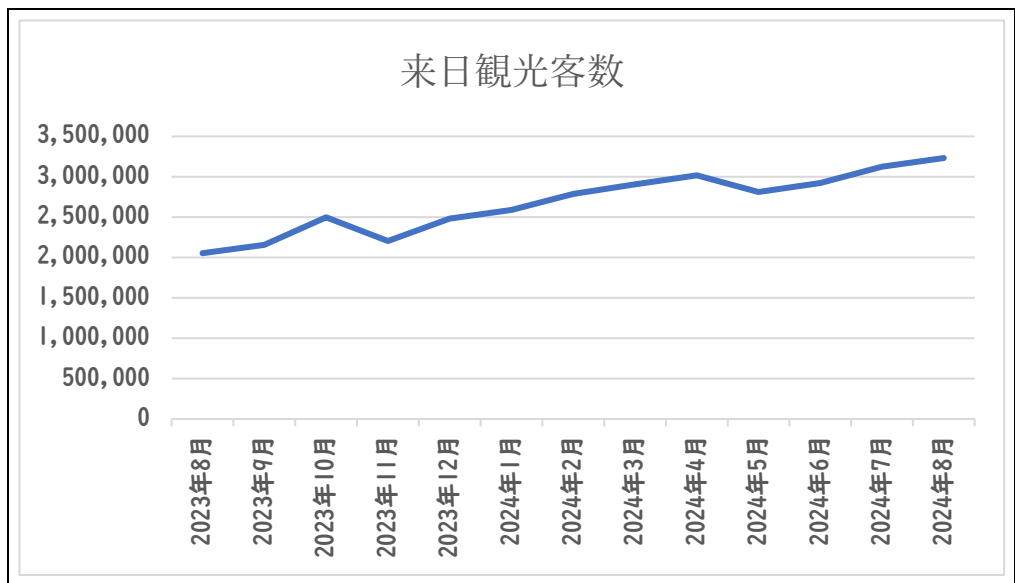
児童C： そうなんだ。お父さんは、ウソは言ってなかったんだ。

先生： ところで、裁判所のしくみの図をみると、矢印が入っているけど、どうして矢印があるかわかる？

児童D： はい、知っています。 からです。

- (1) 会話文中の (A) と (B) にあてはまる語句を答えなさい。
- (2) 会話文中の下線部 C のことを何というか答えなさい。
- (3) 会話文中の X にあてはまる文章を考え、答えなさい。
- (4) 会話文中の Y にあてはまる文章を考え、答えなさい。

問5 次のグラフは2023年8月から2024年の8月までの日本に来日する外国人観光客の数を示しています。グラフが示す通り、この約1年の間に来日観光客が約1.5倍に増加しています。日本はもともと外国人から人気の観光地でしたが、どうしてこの期間に来日する外国人観光客が増加したのか、世界の状況や経済面に着目してその主な理由を1つ答えなさい。



(日本政府観光局の統計より作成)

受験番号			
------	--	--	--

令7 中(1)

社会

解答用紙

1	問1	あ		県	い		県	う		県	
	問2	え		市	お		市				
	問3										
	問4	B		山脈	C		山地	D		平野	
	問5										
	問6				問7						

2	問1	①		②		③			
		④							
	問2				問3				
	問4				問5			問6	
	問7	→	→	→					
	問8								

3	問1					問2					
	問3										
	問4	(1)	A					B			
		(2)									
		(3)									
		(4)									
	問5										

受験番号			
------	--	--	--

令7 中(1)

社会

解答用紙

1	問1	あ	青森 県	い	兵庫 県	う	高知 県	
	問2	え	水戸 市	お	津 市			
	問3	リマン海流						
	問4	B	越後 (えちご) 山脈	C	中国 山地	D	筑紫(つくし) 平野	
	問5	例) 機械の部品や日用雑貨品をつくる中小企業(工場)が多い。						
	問6	エ		問7	ア			

2	問1	①	遣隋使 (けんずいし)	②	源 頼朝	③	寝殿造 (しんでんづくり)	
		④	足利 義政 (あしかが よしまさ)					
	問2	推古(すいこ)天皇		問3	承久(じょうきゅう)の乱			
	問4	摂関(せっかん)政治		問5	イ	問6	ウ	
	問7	A → C → B → D						
	問8	例) 大陸から稲作が伝わり、人々はむらをつくり共同作業をしながら定住するようになりました。また、食料や土地をめぐり争いが起こりました。						

3	問1	基本的人権の尊重(そんちょう)		問2	ウ				
	問3	ユニバーサルデザイン							
	問4	(1)	A	司法	B	高等			
		(2)	国民審査(しんさ)						
		(3)	例) 国会がつくった法律が憲法に違反していないか審査する権利						
		(4)	例) 判決に不満があるとは、上級の裁判所でもう一度裁判ができる(裁判をしんちょうに進めるために三審制を取り入れている)						
問5	例) ・新型コロナウイルス感染症が落ちついたから。 ・円安になったから。								