

受験番号	番
------	---

令和 6 年度

精道三川台高等学校 第 1 回入学試験問題

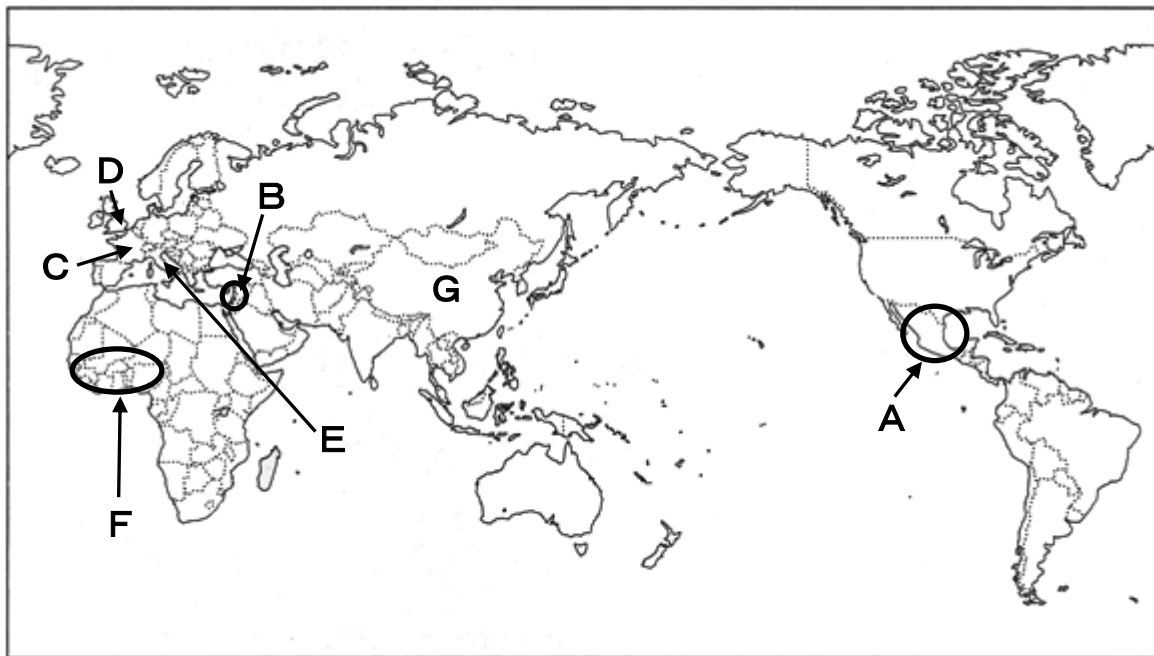
社 会

注 意

- 1 「始め」の合図があるまで、この問題冊子を開いてはいけません。
- 2 解答用紙の中にはさんであります。
- 3 「始め」の合図があったら、まず、受験番号を問題冊子および解答用紙の受験番号欄に記入しなさい。
- 4 問題は□1～□4で、1 ページから 18 ページまであります。
- 5 答えは、すべて解答用紙に記入しなさい。
- 6 「やめ」の合図で、鉛筆を置きなさい。
- 7 試験終了後は、問題冊子および解答用紙を机の上に置いたまま退出しなさい。

1 下の地図をみて、次の問いに答えなさい。

地図



問1 地図中Aの地域について、農作物は人類の歴史に大きな影響を与えてきたが、この地域を原産とする農作物として正しいものを、次のア～エの中から1つ選び、記号で答えなさい。

ア



トウモロコシ

イ



稲

ウ



サトウキビ

エ



オリーブ

問2 地図中Bについて、この地域から生まれ、ローマ帝国で国教とされたキリスト教。その創始者であるイエスが活動した時期として正しいものを、次のア～エの中から1つ選び、記号で答えなさい。

ア
紀元前6世紀 孔子が儒教を創始
イ
紀元前5世紀 ガウタマ=シッダールタ(シャカ)が仏教を創始
ウ
紀元後7世紀 ムハンマドがイスラム教を創始
エ

問3 地図中Cの地域について、次の史料は、中世の西ヨーロッパで勢力を拡大したカトリック教会の教皇が、11世紀のある問題についてこの地域で行なった演説である。に入れる地名a・bと、この史料から読み取れる呼びかけの内容についての仮説c・dとの組み合わせとして正しいものを、次のア～エの中から1つ選び、記号で答えなさい。

・だれであれ、名声や金銭ののぞみからではなく、ひとえに神への^{けんしん}献身をこころにおいて、神の教会を解放せんがために、にゆくならば、すべてその旅は、^{つぐな}償いの行為とみなされよう。

・東方で、わたしたちと同じようにキリストを信ずる人々が苦しんでいる。それは^{いきまうと}異教徒が聖地を占領し、キリスト教徒を^{はくがい}迫害しているからである。神はその解放をみずからの業として^{すいこう}遂行なさる。

に入れる地名

- a ローマ
- b イエルサレム

資料から読み取れる呼びかけの内容

- c 異教徒からの聖地の解放は神が望んでいることで、宗教的に^よ善いことである。
- d 巡礼することは重要で、迫害から逃れるために聖地へ行くべきである。

- ア a－c
- イ a－d
- ウ b－c
- エ b－d

問4 地図中Dのイギリスで13世に起こった、国王の権利と人々の権利に関する出来事
の文章として正しいものを、次のア～エの中から1つ選び、記号で答えなさい。

- ア 貴族や都市がジョン王に対して王権の制限などを認めさせた。
- イ ルターが「信仰のよりどころは聖書だけである」として抗議した。
- ウ ルイ16世に対する革命が起こり、人権宣言が発表された。
- エ 専制政治に対する革命が起こり、チャールズ1世が処刑された。

問5 地図中Eのイタリアについて、ルネサンスの時代に活動し、ピサの斜塔の落下実験
で有名な数学研究者のガリレオ＝ガリレイに関する次の文章を読み、この文章
から読み取れる内容として最も適切なものを、次のア～エの中から1つ選び、記
号で答えなさい。

それまでにヴァチカン※1の委員会は、取り調べの準備のためコペルニクスの学説
を検討し、太陽が宇宙の中心にあるといったようなその主張は「ばかげていて理屈
に合わず、公式に異端※2である」と判断していた。宗教裁判※3が1616年2月25
日に開かれ、パウルス教皇は、コペルニクスの説を教えたり擁護したり論じたり
しないようガリレオに命じよと指示した。従わなければ投獄されることになった。

※1…イタリアのローマにあるカトリック教会の本拠地のこと。 ※2…正統な信仰に反する考えのこと。

※3…異端者を処罰するため、教会内に設けられた特別な裁判制度のこと。

ウィリアム＝H＝クロッパー著、水谷淳訳
『物理学天才列伝 上 ガリレオ、ニュートンからアインシュタインまで』(2010 講談社)

- ア 当時のイタリアでは、自由に科学の研究ができた。
- イ コペルニクスは地球の周囲を天体が回っていると考えた。
- ウ ガリレオはコペルニクスの説を教えていた。
- エ ガリレオはリンゴの落下実験から万有引力の法則を発見した。

問6 地図中Fの地域について、大航海時代以降、イギリスから出港した船が工業製品
をアフリカに持ってゆき、アフリカから黒人奴隷を積み込んで西インド諸島や北
アメリカ大陸に運び、そこからタバコや綿花、砂糖などの産物を積み込んでイギ
リスに帰ってくる貿易があった。このかたちの貿易を何と呼ぶか答えなさい。

問7 地図中Gの地域について述べた次の文章を読み、あとの問いに答えなさい。

ある高校の世界史の授業で教師と生徒が会話している。

先生：今日、1月18日は今から約100年前の1919年に、第一次世界大戦の戦後処理のためのパリ講和会議が始まった日になります。

精三：第一次世界大戦中に日本は中国の[A]政権に二十一か条の要求を出していましたよね。

先生：そうですね。1915年のことでした。この頃の[A]は、長崎ともなじみの深い人物と国内で対立していました。

精三：孫文ですね！

先生：ええ、孫文は辛亥革命で清を終わらせ、中華民国を建てることに成功しましたが、その時に清朝側で協力した大総統の地位を[A]にゆづった結果、追いやられることになりました。

精三：[A]は自身が皇帝になりましたよね。

先生：けれども諸外国の反発にあい、1916年に取り消しました。その年の6月には亡くなるのですが、その後の中国は混乱の状況となりました。

精三：そんな中でパリ講和会議が開かれて…。

先生：北京の政府はその会議で二十一か条の要求の廃棄を求めたのですが、受け入れられませんでした。その結果起こったのが…。

精三：a五・四運動でした！

先生：そう、3000名の北京大学の学生が中心となって、約5000名がデモ行進を行いました。他の都市にもこの動きは広まり、ついには政府を動かし、政府はヴェルサイユ条約に調印しませんでした。

精三：古代や中世と違って、民衆の力の高まりを感じますね。

先生：ええ、その五・四運動で見た力に感銘を受けた孫文は、新たに国民党をつくり、権力者ではなく、民衆と手を結び、混乱する中国の再統一へ進んでいく。このように物語は続きます。

(1) [A]に当てはまる人物名を答えなさい。

(2) 下線部aについて、五・四運動のきっかけはパリ講和会議での二十一か条の要求の廃棄が認められなかった不満にある。その不満の具体的な内容について、「山東省」、「権益」という言葉を用いて説明しなさい。

2 次のA・Bの各問いに答えなさい。

A 次の年表を見て、あとの問いに答えなさい。

年表

年 号	で き ご と
239	卑弥呼が魏に使いを送る・・・・・・・・・・①
413	倭王が中国に使いを送る・・・・・・・・・・②
645	中大兄皇子と中臣鎌足が蘇我氏を倒し政権を握る・・・③
710	平城京に都が移される・・・・・・・・・・④
794	桓武天皇が都を平安京に移す・・・・・・・・・・⑤
1192	源頼朝が鎌倉に幕府を開く・・・・・・・・・・⑥
1333	後醍醐天皇が鎌倉幕府を滅ぼす・・・・・・・・・・⑦
1583	豊臣秀吉が大坂城を築く・・・・・・・・・・⑧
1603	徳川家康が征夷大將軍となり江戸に幕府を開く・・・・⑨

問1 年表①の時代について、あとの問いに答えなさい。

(1) 卑弥呼が王となり治めていた国を答えなさい。

(2) (1)のことが書かれている史料を次のア～エの中から1つ選び、記号で答えなさい。

- ア 『漢書』地理志 イ 『後漢書』東夷伝
 ウ 『魏志』倭人伝 エ 『宋書』倭国伝

問2 年表②の時代に巨大な前方後円墳がつくられるようになった。右の資料の古墳は大阪にある日本最大級の古墳である。この古墳の名称を答えなさい。

資料



問3 年表③の出来事をきっかけに天皇を中心とする新しい政治の組織をつくった。この一連の政治改革を答えなさい。

問4 年表④の時代に発行された貨幣として正しいものを次のア～エの中から1つ選び、記号で答えなさい。



問5 年表⑤の時代について、あとの問いに答えなさい。

(1) この時代について述べた文として誤っているものを、次のア～エの中から1つ選び、記号で答えなさい。

ア 平安京は宋の都である長安をモデルにつくられた。

イ 仏教を学ぶために中国に渡っていた最澄は帰国後に天台宗を確立した。

ウ 藤原道長は娘を天皇のきさきにし、その子を天皇にすることで権力を握った。

エ 天皇が位をゆずり上皇になってからも院で政治を行った。

(2) この時代、東北地方に蝦夷と呼ばれる朝廷に従わない人々がいた。この蝦夷を平定するために、征夷大將軍に任命された人物を答えなさい。

問6 年表⑥について、あとの問いに答えなさい。

(1) 次の資料を見てこの場所に幕府を開いた理由を答えなさい。

資料



(2) この時代の農業と商業について説明した次の文の()に適語を入れなさい。

牛馬を使った耕作や、裏作に麦をつくる(ア)が広まった。また、桑・漆・茶など、原料や商品として売る(イ)の栽培も始まった。

農業生産が高まるとともに、商業も盛んになり、寺社の門前や交通の要地に(ウ)ができた。農民は、(ウ)が開かれると農作物を売ったり、農具や衣料品などの日常生活用品を買ったりするようになった。

問7 年表⑦について、あとの問いに答えなさい。


- (1) このときに後醍醐天皇側につき、六波羅探題を攻め落とした人物を答えなさい。
- (2) 後醍醐天皇が行った天皇を中心とした政治を何というか答えなさい。

問8 年表⑧の時代の文化作品として正しいものを、次のア～エの中から1つ選び、記号で答えなさい。

ア



イ



ウ



エ



問9 年表⑨の時代について、あとの問いに答えなさい。

- (1) 次の史料Ⅰを読み、この史料で制定された法の名称を答えなさい。

史料Ⅰ

武家諸法度(寛永令)^{※1}

一 大名小名^{※2}、在江戸交替、相定ル所也。毎歳夏四月中参勤致スベシ。従者ノ員数近来甚ダ多シ、且ハ国郡ノ費、且ハ人民ノ勞也。尙後^{※3}其ノ相応ヲ以テ、之ヲ減少スベシ。

※1…一六三五(寛永十二)年に制定された。全一九条。 ※2…石高の少ない大名。 ※3…以後。

(2) 次の史料Ⅱを読み、この史料名を答えなさい。

史料Ⅱ

- 一 天子^{てんし}諸芸能の事、第一御学問也。
- 一 三公^{さんこう}※1の下親王。
- 一 武家の官位は、公家当官^{ほか}の外たるべき事。
- 一 関白^{てんそうならび}・伝奏^{でんそう}並びに奉行^{へいぎょう}・職事^{しやくじ}等申し渡す儀^ぎ、堂上^{どうじょう}地下^{じげ}の輩^{ともがら}相背くにおいては流罪^{るざい}たるべき事。
- 一 紫衣^{しえ}※2の寺、住持^{しゆぢ}職^{しやく}、先規^{せんき}希有^{きゆう}の事也。近年^{きんねん}猥^{みだ}りに勅許^{ていこ}の事…甚だ然るべからず。

※1…三大臣(太政大臣・左大臣・右大臣)のこと。座位は親王より上とされた。 ※2…朝廷から高德の僧に賜った紫色の法衣^{けき}や袈裟^さ。

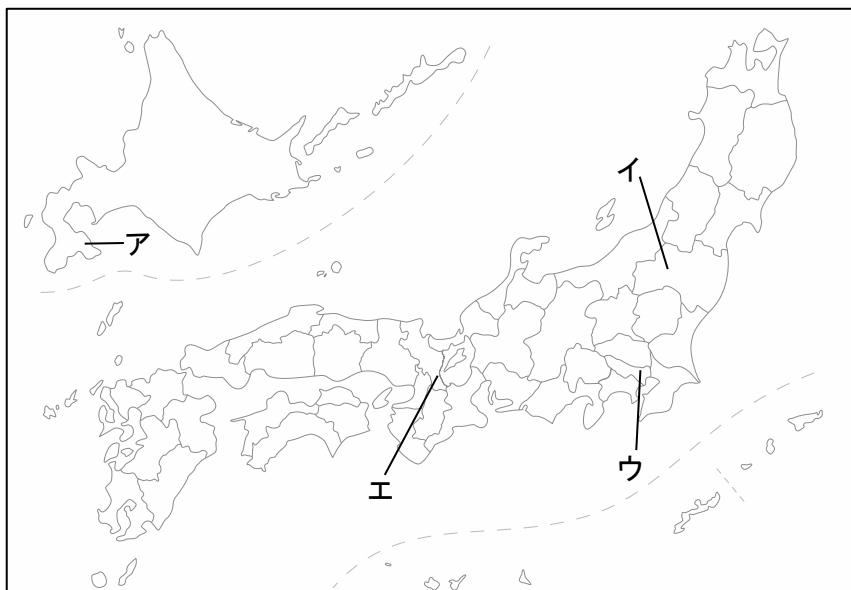
(3) 江戸時代の改革について述べた次のⅠ～Ⅳの文章を、年代順に並び替えなさい。

- Ⅰ 旗本・御家人の生活難を救うために借金を帳消しにし、人材育成のために武士に朱子学を学ばせ、出版物の統制を厳しくおこなった。
- Ⅱ 儉約をすすめて生活の引き締めを行う一方、株仲間を解散させて商人の自由な取り引きを認めることで物価を引き下げようとした。
- Ⅲ 豊作・不作に関係なく一定の年貢を取り立て財政の立て直しを図るとともに、公家方御定書を定めて裁判の基準を示した。
- Ⅳ 商工業者の同業組合である株仲間を奨励し、営業を独占させることで一定の税額を幕府に納めさせた。

B 次の資料を見て、あとの問いに答えなさい。

資料Ⅰ	資料Ⅱ	資料Ⅲ
		
資料Ⅳ	資料Ⅴ	資料Ⅵ
		

問1 資料Ⅰについて、この場面は戊辰戦争中に行われた西郷隆盛と勝海舟の会談である。この会談が行われた場所を、次の地図中ア～エの中から1つ選び、記号で答えなさい。



問2 資料Ⅱは、明治初期に条約改正予備交渉のため海外に派遣された使節団の写真である。使節団のメンバーとして誤っているものを、次のア～エの中から1つ選び、記号で答えなさい。

ア 岩倉具視 イ 伊藤博文 ウ 大久保利通 エ 大隈重信

問3 資料Ⅲは、和歌山県沖で発生したノルマントン号事件の風刺画である。この事件で問題となった日本と諸外国との間で結んでいた条約内容を答えなさい。

問4 資料Ⅳの人物は、19世紀後半に海運業で資本を蓄え、鉱山や金融・貿易などの事業に進出し日本経済に影響を与えた。この人物が形成した財閥として正しいものを、次のア～エの中から1つ選び、記号で答えなさい。

ア 三井 イ 三菱 ウ 住友 エ 安田

問5 資料Ⅴの人物は、ノーベル賞候補になった科学者である。この人物の研究内容として正しいものを、次のア～エの中から1つ選び、記号で答えなさい。

ア せきりきん赤痢菌 イ おうねつびょう黄熱病 ウ はしょうふう破傷風 エ アドレナリン

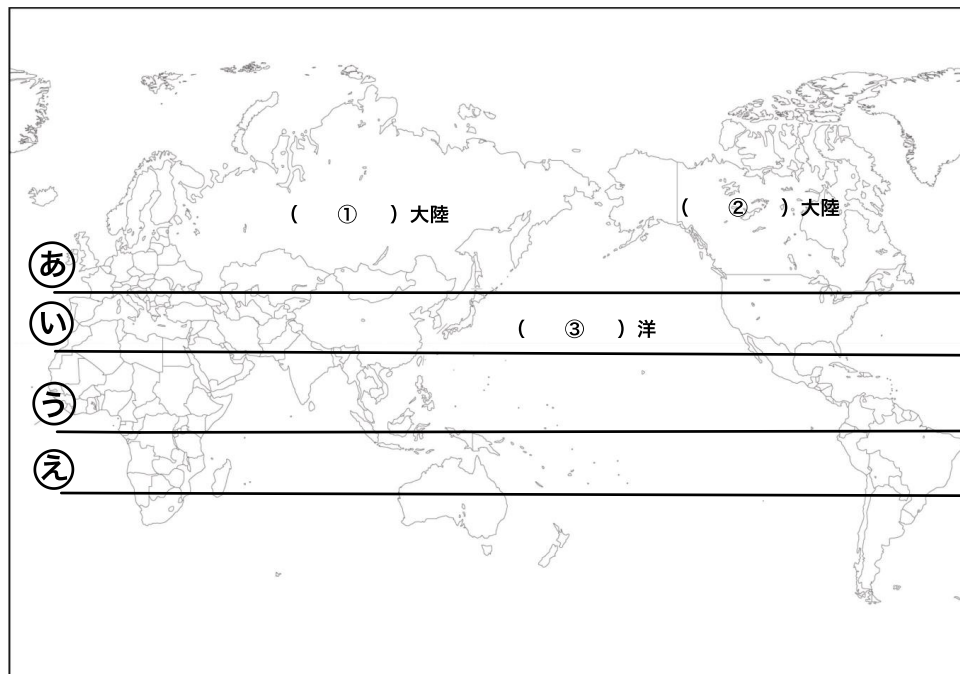
問6 資料Ⅵは、次の史料の団体旗である。史料を読み、このとき結成された団体名を答えなさい。

全国に散在する部落の人々よ、団結せよ。ここにわれわれが人間を尊敬することによって、自らを解放しようとする運動を起こしたのは当然である。われわれは、心から人生の熱と光を求めるものである。…人の世に熱あれ、人間に光あれ。

3 次のA～Dの問いに答えなさい。

A 次の地図Iを見て、あとの問いに答えなさい。

地図I



問1 地図I中の①～③の大陸名、海洋名を答えなさい。

問2 地図I中の赤道の正しい位置を、あ～えの中から1つ選び、記号で答えなさい。

B 次の資料 I を見て、あとの問いに答えなさい。

資料 I

地球儀には経線と緯線が引かれていて、特にロンドンを通る a 経度 0 度の線、緯度 0 度の線、 b 経度 180 度あたりの線には特別な名前がついています。また、地球の北側を北半球といい、南側を南半球といいます。北半球の季節が夏のときには、南半球の季節は (①) になります。地球は (②) をしているので地球上の各地には時差が生じます。そのため、国または地域で共通した時刻である c 標準時を設定しています。

問 1 (①) (②) に当てはまる語句を答えなさい。

問 2 資料 I 中の下線部 a について、この線を何というか答えなさい。

問 3 資料 I 中の下線部 b について、この線を何というか答えなさい。


問 4 資料 I 中の下線部 c について、この標準時を示す線は、まっすぐな直線になっていない。その理由を説明しなさい。

問 5 北半球が夏の時、高緯度の地域では、太陽が沈まないうす明かりの夜が続く。このような現象を何というか答えなさい。

問 6 日本が 4 月 2 日の午前 9 時のときニューヨークは何月何日の何時か答えなさい。ニューヨークの標準時子午線は、西経 120 度である。ただし、時刻をあらす際には、午前・午後を使って答えること。


問 7 下の図 I のような、モンゴルで利用されている、移動に便利なように組み立て式になっている住居を何というか答えなさい。

図 I



問8 高山地域で飼育されている家畜の写真として最も適切なものを、次のア～エの中から1つ選び、記号で答えなさい。また、その家畜が見られる地域を、下のカ～ケの中から1つ選び、記号で答えなさい。


ア




イ



ウ



エ



カ アトラス山脈

キ アンデス山脈

ク チベット高原

ケ モンゴル高原

C 世界と日本の人口について、あとの問いに答えなさい。

問1 2023年現在世界の人口として最も適切なものを、次のア～エの中から1つ選び、記号で答えなさい。

ア 約50億人 イ 約60億人 ウ 約70億人 エ 約80億人

問2 日本は高度経済成長期以降、地方から多くの人々が移住し、3大都市圏が形成された。3大都市とは東京・大阪、もう1つはどこか答えなさい。

問3 次の文章中の(A)(B)に当てはまる語句や数字として正しい組み合わせのものを、次のア～エの中から1つ選び、記号で答えなさい。

(A)とは、過疎地域の中でも高齢化が極端に進展し、(B)歳以上の人口が過半数を占める集落のことである。

ア A 限界集落 B 60 イ A 過疎 B 65
 ウ A 過疎 B 60 エ A 限界集落 B 65

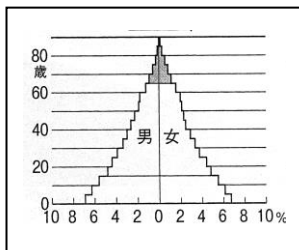
問4 日本の人口について下の(A)・(B)に当てはまる語句を答えなさい。

【日本の人口ピラミッドの変化】

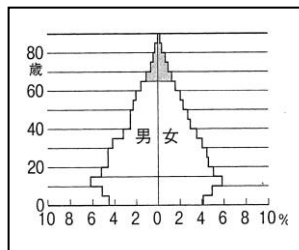
1935年

1960年

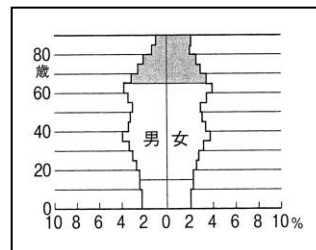
2010年



⇒



⇒



富士山 型
(A) 型

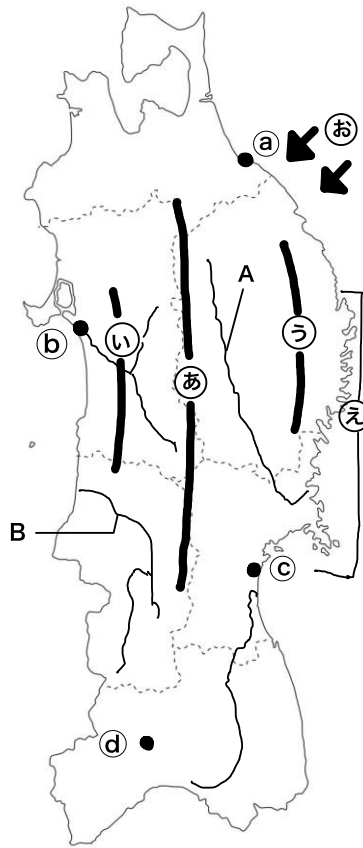
つりがね 型
少産多死 型

(B) 型
少産少死 型

問5 合計特殊出生率 とは何か。「一生」という語句を使用して説明しなさい。

D 地図Ⅱを見て、あとの各問いに答えなさい。

地図Ⅱ



- 問1 地図Ⅱ中の(あ)～(う)の山地・山脈・高地の名前を、それぞれ答えなさい。
- 問2 地図Ⅱ中の(え)には、複雑な海岸線が見られる。このような地形を何というか答えなさい。
- 問3 地図Ⅱ中のA・Bの川の名前を、それぞれ答えなさい。また、A・Bの下流に広がる平野を、次のア～エの中からそれぞれ1つ選び、記号で答えなさい。
ア 讃岐平野 イ 庄内平野 ウ 仙台平野 エ 筑紫平野
- 問4 東北地方の地方中枢都市を、地図Ⅱ中の(あ)～(d)から1つ選び、記号で答えなさい。
- 問5 地図Ⅱ中の(お)は、東北地方の太平洋側に吹きつける冷たく湿った北東風である。この北東風の正式名称を答えよ。またこの風が東北地方の太平洋側の農業に与える影響を簡単に説明しなさい。

4 次の各問いに答えなさい。

問 1 次の各文は、日本国憲法の条文である。() に適語を入れなさい。

- | | |
|---------|--|
| 第 1 1 条 | 国民は、すべての基本的人権の享有を妨げられない。この憲法が国民に保障する基本的人権は、侵すことのできない (A) の権利として、現在及び将来の国民に与えられる。 |
| 第 1 3 条 | すべて国民は、個人として尊重される。生命、自由及び幸福追求に対する国民の権利については、(B) に反しない限り、立法その他の国政の上で、最大の尊重を必要とする。 |
| 第 2 6 条 | すべて国民は、法律の定めるところにより、その能力に応じて、ひとしく (C) を受ける権利を有する。 |
| 第 6 8 条 | 内閣総理大臣は、(D) を任命する。但し、その過半数は、国会議員の中から選ばなければならない |
| 第 9 8 条 | この憲法は、国の (E) であって、その条規に反する法律、命令、詔勅及び国務に関するその他の行為の全部又は一部は、その効力を有しない。 |

問 2 衆議院が解散され、総選挙が行われてから 30 日以内に召集される国会を何というか答えなさい。

問 3 衆議院の解散中、国会の議決を必要とする問題が生じたときに内閣の要求によって召集される参議院の会議として正しいものを、次のア～エの中から 1 つ選び、記号で答えなさい。

ア 緊急国会 イ 緊急集会 ウ 臨時国会 エ 通常国会

問 4 憲法改正の手続きとして正しいものを、次のア～エから 1 つ選び、記号で答えなさい。

- ア 各議院で 3 分 1 以上の賛成、国民投票の過半数以上の賛成により成立する。
- イ 各議院で 3 分 2 以上の賛成、国民投票の過半数以上の賛成により成立する。
- ウ 各議院で過半数以上の賛成、国民投票の 3 分 1 以上の賛成で成立する。
- エ 各議院で過半数以上の賛成、国民投票の 3 分 2 以上の賛成で成立する。

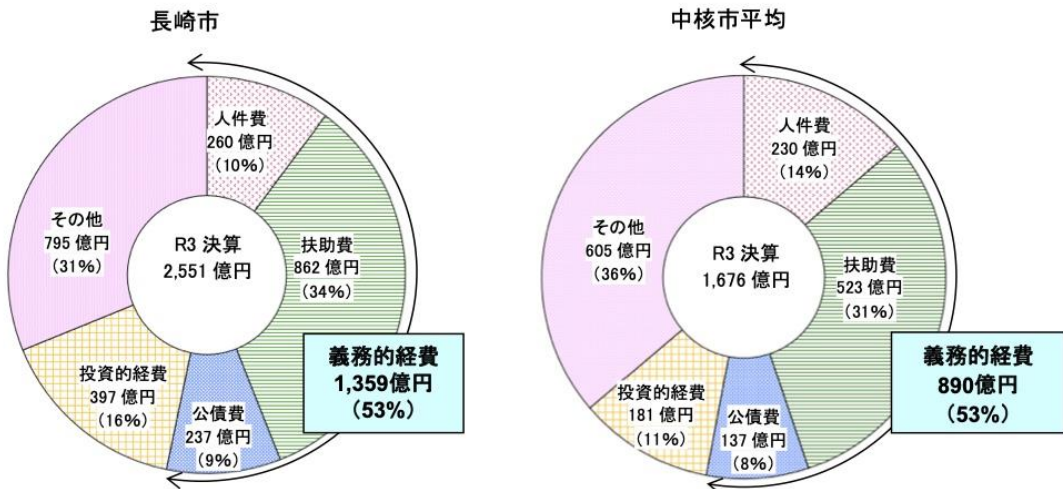
問5 比例代表選挙について、あとの(1)・(2)の問いに答えなさい。

(1) 次の表は定数9人の比例代表選挙でのA・B・C・Dの各党の得票数である。
比例代表選挙の際に用いる計算方式にもとづき、B党の当選者数を答えなさい。

	A党	B党	C党	D党
得票数	600	480	240	160
÷1				
÷2				
÷3				
÷4				
÷5				
⋮				
当選者数				

(2) (1) で用いた計算方式を何というか答えなさい。

問6 次のグラフは、長崎市の令和3年度普通会計決算における支出(歳出)の内訳を比較したグラフである。長崎市は、歳出に占める投資的経費の割合が16%と、中核市平均(11%)を上回っています。これは、長崎市が100年に1度のまちづくりとして取り組んできたことが影響をしている。長崎が国や九州の自治体と共同で取り組んだ事業は何か答えなさい。



※「長崎市財政課」令和4年度予算より

問7 地方交付税交付金とは何か。「財政」「配分」の語句を用いて説明しなさい。

問8 デフレーションの説明として正しいものを、次のア～エの中から1つ選び、記号で答えなさい。

ア 物価が上昇しつづけ、貨幣価値も上がる状態。

イ 物価が下落しつづけ、貨幣価値も下がる状態。

ウ 物価が上昇しつづけ、貨幣価値が下がる状態。

エ 物価が下落しつづけ、貨幣価値が上がる状態。

問9 直接税の種類として誤っているものを、次のア～エの中から1つ選び、記号で答えなさい。

ア 所得税 イ 消費税 ウ 相続税 エ 自動車税

受験番号

番

令6高(1)

社会

1

問1		問2		問3		問4	
問5		問6		問7	(1)		
(2)							

2

A

問1	(1)		(2)	
問2		問3		問4
問5	(1)		(2)	
問6	(1)			
	(2)	ア	イ	ウ
問7	(1)		(2)	問8
問9	(1)		(2)	
	(3)			

B

問1		問2		問3	
問4		問5		問6	

3

A

問1	①		②		③
問2					

B

問1	①		②		問2		
問3			問4				
問5			問6			問7	
問8	写真		地域				

C

問1			問2			問3	
問4	A			B			
問5							

D

問1	あ			い			う	
問2								
問3	A	川 平野						
	B	川 平野						
問4								
問5	名称							
	影響							

4

問1	A			B			C	
	D			E				
問2			問3			問4		
問5	(1)			(2)				
問6								
問7								
問8			問9					

受験番号	番
------	---

令6高(1)

社 会

模範解答

1

問1	ア	問2	ウ	問3	ウ	問4	ア
問5	ウ	問6	三角貿易		問7	(1)	袁世凱
(2)	日本が <u>山東省</u> のドイツ <u>權益</u> を引き継ぐこと。						

2

A

問1	(1)	邪馬台国	(2)	ウ		
問2	大仙(陵)古墳		問3	大化の改新	問4	ア
問5	(1)	ア	(2)	坂上田村麻呂		
問6	(1)	三方を山に囲まれ、防衛力が高い場所であったため。				
	(2)	ア	二毛作	イ	商品作物	ウ
問7	(1)	足利尊(高)氏	(2)	建武の新政	問8	エ
問9	(1)	参勤交代	(2)	禁中並公家諸法度		
	(3)	Ⅲ→Ⅳ→Ⅰ→Ⅱ				

B

問1	ウ	問2	エ	問3	領事裁判権 (治外法権)
問4	イ	問5	イ	問6	全国水平社

3

A

問1	①	ユーラシア大陸	②	北アメリカ大陸	③	太平洋
問2	㊷					

B

問1	①	冬	②	自転	問2	本初子午線
問3	日付変更線		問4	国の中を通らないようにしているから。		
問5	白夜		問6	4月1日午後4時	問7	ゲル
問8	写真	ア	地域	キ		

C

問1	ウ		問2	名古屋		問3	エ
問4	A	多産多死	B	ツボ			
問5	一人の女性が一生のうちに産む子どもの数の平均。						

D

問1	あ	奥羽山脈		い	北上山地		う	出羽山地	
問2	リアス式海岸								
問3	A	北上	川	平野	ウ				
	B	最上	川	平野	イ				
問4	C								
問5	名称	やませ							
	影響	霧などにより、日照不足となり、(気温の上がらない)冷夏が続き、冷害になる。							

4

問1	A	永久		B	公共の福祉		C	教育	
	D	国務大臣		E	最高法規				
問2	特別会			問3	イ		問4	イ	
問5	(1)	3		(2)	ドント方式				
問6	新幹線西九州ルートの開通、交流拠点施設整備事業、大型事業の実施など								
問7	地方公共団体間の財政の格差を小さくするために、国から配分されるお金。								
問8	エ			問9	イ				