

受験番号			
------	--	--	--

令和3年度

精道三川台中学校 第2回入学試験問題


社 会


注 意


- 1 「始め」の合図があるまで、この問題冊子を開いてはいけません。
- 2 解答用紙は中にはさんであります。
- 3 「始め」の合図があったら、まず、受験番号を問題冊子および解答用紙の受験番号らんに記入しなさい。
- 4 問題は **1** ～ **4** で、1ページから6ページまであります。
- 5 答えは、すべて解答用紙に記入しなさい。
- 6 答えはてきせつな漢字を使用して書きなさい。また、国名を答えるときは、指定がなければ正式名称で答えなくてもよい。
- 7 「やめ」の合図で、筆記用具を置きなさい。
- 8 試験終了後は、問題冊子および解答用紙を机の上に置いたまま指示があるまで待ちなさい。


1

次のA～Dのカードをみて、あとの問いに答えなさい。

A		この人物は、(①)として聖徳太子の国書を中国に届けました。帰国後、再び留学生たちとともに中国へ渡りました。
---	---	---

B		この人物は、占いやまじないで(②)という国をおさめました。中国に使いを送り、中国の皇帝から「親魏倭王」の称号をさずかりました。
---	---	---

C		この人物は、大化の改新の中心人物でのちに即位して天智天皇となりました。全国の(③)の作成などを行い、律令政治の基礎をつくりました。
---	--	---

D		この人物は、 ()
---	---	-------------------

問1 A～Dのカードの人物名を答えなさい。

問2 A～Cのカードの(①)～(③)にあてはまる語句を答えなさい。

2

次の年表を見て、あとの問いに答えなさい。

年	できごと
1576年	(①) が安土城をつくる。
1590年	豊臣秀吉が全国を統一する。・・・A
(②) 年	徳川家康が江戸幕府を開く。
1635年	幕府から鎖国令 <small>きこく</small> が出される。・・・B
1716年	徳川吉宗が8代将軍になる。・・・C
1787年	(③) が老中となり寛政の改革を行う。
1837年	大塩平八郎が (④) で反乱をおこす。
1858年	日本がアメリカと日米修好通商条約を結ぶ。・・・D
1867年	(⑤) が政権を天皇に返す。
1868年	明治政府が五か条の御誓文 <small>ごせいもん</small> を出す。・・・E

問1 年表の (①) ~ (⑤) にあてはまる語句・数字・人物名を答えなさい。

問2 Aのできごとについて、豊臣秀吉が行った政策として正しくないものを次のア～エの中から1つ選び、記号で答えなさい。ア キリスト教が広まることを恐れて、宣教師せんきょうしを日本から追放した。イ 中国の征服せいふくを考え、2度にわたり朝鮮に大軍を送って攻めた。ウ 商工業を発展させるために市場での税をやめ、商売みとの自由を認めた。エ 検地や刀狩たいこうを行って兵農分離へいのうぶんりを進め、支配力を強めた。

問3 Bのできごとについて、鎖国中も貿易や交流を行っていた国を4つ答えなさい。

問4 Cのできごとについて、徳川吉宗が行った政治の改革の名前を答えなさい。

また、次のア～エの中から徳川吉宗の改革ではないものを1つ選び、記号で答えなさい。ア 倭約令げんやく イ 人返し令 ウ 目安箱めいあんばの設置 エ 上米あげまいの制

問5 Dのできごとについて、この条約は不平等条約でした。不平等の内容を2つ答えなさい。

問6 Eのできごとについて、下の文章の () にあてはまる語句を答えなさい。

五か条の御誓文ごせいもんは、() が新しい政治のやり方を神ちかに誓うという形で示された。

問7 右の資料の人物ともっとも関わりの深いできごとを年表中の

A～Eの中から1つ選び、記号で答えなさい。

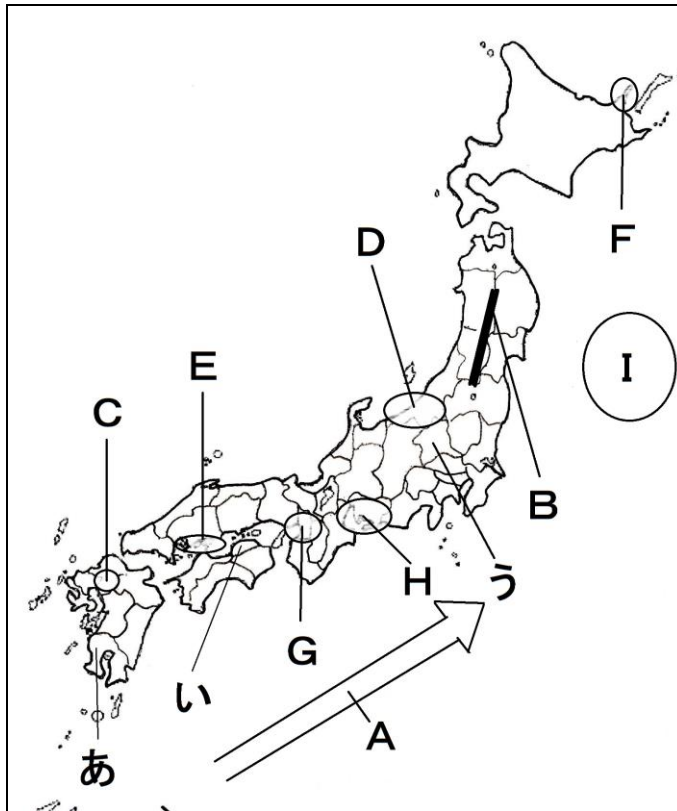


問8 Bのできごとについて、鎖国令を出した幕府の目的を

説明しなさい。

3

次の地図を見て、あとの問いに答えなさい。



問1 あ^あの都道府県名を答えなさい。また、江戸時代にこの地域にあった藩の名前を答えなさい。

問2 い・う^{い・う}の都道府県名と県庁所在地名を答えなさい。

問3 A^Aの海流名とB^Bの山脈名を答えなさい。

問4 C^Cは稲作がさかん^{いなさく}な地域^{ちいき}である。この地域にある平野名を答えなさい。

問5 下の文章はD^Dの地域について説明した文章である。文章中の(①)～(③)にあてはまる語句を答えなさい。

この地域は、(①)平野があり、その中を日本一長い(②)川が流れていて日本でも有数の稲作地帯となっている。江戸時代には、天候不良や害虫による深刻な米の不作^{しんこく}で(③)が発生した。

問6 Eの地域の様子を説明した文章として正しいものを次のア～エの中から1つ選び、記号で答えなさい。

- ア 太田川の河口には三角州という地形がみられ、沿岸部ではかきの養殖がさかんである。
- イ 太田川の河口には扇状地^{せんじょうち}という地形がみられ、沿岸部ではのりの養殖^{ようしよく}がさかんである。
- ウ かつてコンテナとり扱^{あつか}い数世界一だった国際貿易港があり、その沖合^{おきあい}には空港がある。
- エ 海岸沿いに自動車の組み立て工場がたちならび、国際貿易港から海外へ輸出している。

問7 Fの地域の様子を説明した文章として正しいものを次のア～エの中から1つ選び、記号で答えなさい。

- ア この地域は、かつて日本最大であった銀山^{ぎんざん}があり、2007年にユネスコ世界文化遺産^{いさん}に登録された。
- イ この地域にある半島では、野生動物や原始的な自然がみられ、2005年にユネスコ世界遺産に登録された。
- ウ この地域にある半島は、入りくんだ地形のリアス式海岸であり、真珠^{しんじゆ}やアオサの養殖がさかんに行われている。
- エ この地域は、農作物をつくるには不向きだが、牛の飼育に適した自然環境^{かんきよう}があり、酪農^{らくのう}がさかんに行われている。

問8 Gの地域にある工業地帯名を答えなさい。また、この工業地帯にあてはまるグラフを下のア～エの中から1つ選び、記号で答えなさい。

[工業製品出荷額の割合] (2016年)

ア	金属	機械		化学	食料品	その他
	9.1	69.4		6.2	4.8	11.7
イ	金属	機械		化学	食料品	その他
	19.9	36.4		17.4	11.7	14.1
ウ	金属	機械	化学		食料品	その他
	20.3	13.8	38.8		17.0	12.6
エ	金属	機械		化学	食料品	その他
	9.4	46.6		15.4	12.8	15.8

問9 Hの地域に関係のない資料を次のア～エの中から1つ選び、記号で答えなさい。

ア



世界的に有名な自動車メーカーの工場

イ



徳川家康がつくらせた金のシャチホコで有名なお城

ウ



国内では2番目の規模をほこる海上につくられた空港

エ



将軍の後つぎ問題をきっかけにおこった10年以上にわたる戦い

問10 Iの海域は、豊かな漁場となっています。この地域が豊かな漁場となっている理由を説明しなさい。

4

2020年の夏以降から、日本政府が旅行費の補助を行う「Go to^{ほじょ}トラベル」、レストランなどの飲食店を予約するとポイントを与える・飲食店で利用できるプレミアム付きの商品券を販売する「Go to^{イート} Eat」など、「Go to キャンペーン」を行っています。なぜ、日本政府がこのような政策を行っているのか説明しなさい



受験番号			
------	--	--	--

令3中(2)

社会 解答用紙

1	問1	A		B		C		
		D		問2	①		②	
	③		問3		問4		問5	
	問6	→ → →						
	問7							

2	問1	①		②		③	
		④		⑤		問2	
	問3						
	問4	改革名		記号			
	問5						
	問6		問7				
	問8						

3	問1	県名		県	藩名		藩	問2	い	県名		県
	県庁所在地		市	う	県名		県	県庁所在地		市		市
	問3	A		B		山脈	問4		平野			
	問5	①		②		③		問6				
	問7		問8		工業地帯	記号		問9				
	問10											

4												
----------	--	--	--	--	--	--	--	--	--	--	--	--

受験番号			
------	--	--	--

令3中(2)

社会 解答用紙

1	問1	A	小野 妹子	B	卑弥呼		C	中大兄皇子		
		D	フランシスコ=ザビエル	問2	①	遣隋使	②	邪馬台国		
	③	戸籍	問3	エ	問4	ア	問5	ウ		
	問6	B → A → C → D								
	問7	例) イエズス会の宣教師として日本に初めてキリスト教を伝えました。鹿児島県に								
		上陸し九州・山口で布教活動を行い、キリスト教が広まるきっかけを作りました。								

2	問1	①	織田 信長	②	1603		③	松平 定信		
		④	大阪	⑤	徳川 慶喜		問2	ウ		
	問3	オランダ	中国	琉球王国	朝鮮					
	問4	改革名	享保の改革	記号	イ					
	問5	治外法権(領事裁判権)を認める			関税自主権がない					
	問6	(明治)天皇		問7	D					
	問8	例)キリスト教が広まるのを防ぎ、幕府が貿易による利益を独占したかったから。								

3	問1	県名	鹿児島	県	藩名	薩摩	藩	問2	い	県名	香川	県
	県庁所在地	高松		市	う	県名	群馬	県	県庁所在地	前橋		
	問3	A	日本海流(親潮)		B	奥羽	山脈	問4	筑紫			
	問5	①	越後	②	信濃	③	ききん		問6	ア		
	問7	イ		問8	阪神		工業地帯	記号	イ		問9	エ
	問10	例) 日本海流(黒潮)と千島海流(親潮)がぶつかる潮目があり魚のエサとなる										
		プランクトンが多く集まるから。										

4	例) 新型コロナウイルス感染症によってお客さんが減り、経営の苦しい										
	観光業や飲食業の人たちを助けるため。										