

受験番号			
------	--	--	--

令和2年度

精道三川台中学校 第2回入学試験問題

社 会

注 意

- 1 「始め」の合図があるまで、この問題冊子を開いてはいけません。
- 2 解答用紙は中にはさんであります。
- 3 「始め」の合図があったら、まず、受験番号を問題冊子および解答用紙の受験番号らんに記入しなさい。
- 4 問題は **1** ～ **5** で、1ページから6ページまであります。
- 5 答えは、すべて解答用紙に記入しなさい。
- 6 答えは適切な漢字を使用して書きなさい。
- 7 「やめ」の合図で、筆記用具を置きなさい。
- 8 試験終了後は、問題冊子および解答用紙を机の上に置いたまま指示があるまで待ちなさい。

1

次の年表を見て、あとの問いに答えなさい。

年	できごと
1192年	鎌倉幕府が開かれる 元軍が2度にわたって日本に攻めてくる・・・A 北条氏が（ あ ）となって政治を進める
1333年	鎌倉幕府が滅びる・・・B
1338年	（ い ）が室町幕府を開く （ う ）が水墨画を大成する 中国と貿易をはじめめる・・・C
1467年	京都で（ え ）がおこる 戦国大名の勢力が強くなる・・・D
1482年	足利義政が銀閣の建設をはじめめる・・・E
1560年	（ お ）が駿河の今川氏に勝利する

問1 （ あ ）～（ お ）に当てはまる語句を答えなさい。

問2 Aのできごとについて、このときの元の皇帝の名前を答えなさい。

問3 Bのできごとについて、武士たちの不満の高まりが幕府が滅びるきっかけとなった。武士たちの不満とはどのような不満が答えなさい。

問4 Cのできごとについて、当時の中国は何と呼ばれていたか答えなさい。

問5 Dのできごとについて、戦国大名が勢力を強める前に国々を治めていた大名を何というか答えなさい。

問6 Eのできごとについて、次の文章の（ ）に当てはまる最も適当な語句を答えなさい。

「銀閣の隣となりにある東求堂とうぐどうは、日本最古の（ ）の建物として国宝に指定されている。」

【写真1】

問7 右の写真1が作られたのはいつ頃ですか。最も近いできごとを年表中のA～Eの中から1つ選び、記号で答えなさい。



- 問8 年表の時代に最も関係のある文章を次のア～エの中から1つ選び、記号で答えなさい。
- ア 五人組がつくられ、年貢^{ねんぐ}を納めない者などが出ると共同責任^{きょうどうせきにん}を負った。
 - イ 備中^{びっちゅう}ぐわや千歯^{せんし}こきなどの新しい農具が使われ、農民たちの仕事が楽になった。
 - ウ 一揆^{いっき}を防ぐために刀や武器を取り上げ、武士と農民の身分をはっきりと区別した。
 - エ 西日本を中心に1つの耕地から2つの作物をつくる二毛作が広まった。

2

次の資料A～Cを見て、あとの問いに答えなさい。

〔資料A〕



〔資料B〕



〔資料C〕



- 問1 資料Aは奈良市役所に展示されている、かつての都の復元模型^{ふくげんもけい}である。この都の名前を答えなさい。
- 問2 資料Aの頃と関係の深い文章を次のア～エの中から1つ選び、記号で答えなさい。
- ア 邪馬台国^{やまたいこく}の女王が中国に使いを送り、称号^{しょうごう}をさづけられた。
 - イ 中大兄皇子^{なかのおおえのおうじ}・中臣鎌足^{なかとみのかまたり}が蘇我氏^{そが}をたおし、新しい政治をはじめた。
 - ウ 聖武天皇が仏教の力で人々の不安をせずめ国をおさめようとした。
 - エ 聖徳太子が十七条の憲法を定め、天皇中心の国をつくろうとした。
- 問3 資料Bは何か答えなさい。
- 問4 資料Bの説明として正しいものを次のア～エの中から1つ選び、記号で答えなさい。
- ア 縄文時代に健康や豊作を願って作られていた。
 - イ 弥生時代にむらの儀式^{ぎしき}で使われていた。
 - ウ 古墳時代^{けんりょく}に権力のある人のお墓^{はか}の周りにならべられた。
 - エ 奈良時代に貴族の屋敷で行われたお祭りで使われた。
- 問5 資料Cの中心に描かれているのは誰か答えなさい。
- 問6 資料Cはどのように使われていたのか、その目的も明らかにして説明しなさい。

3

次の地図を見て、あとの問いに答えなさい。

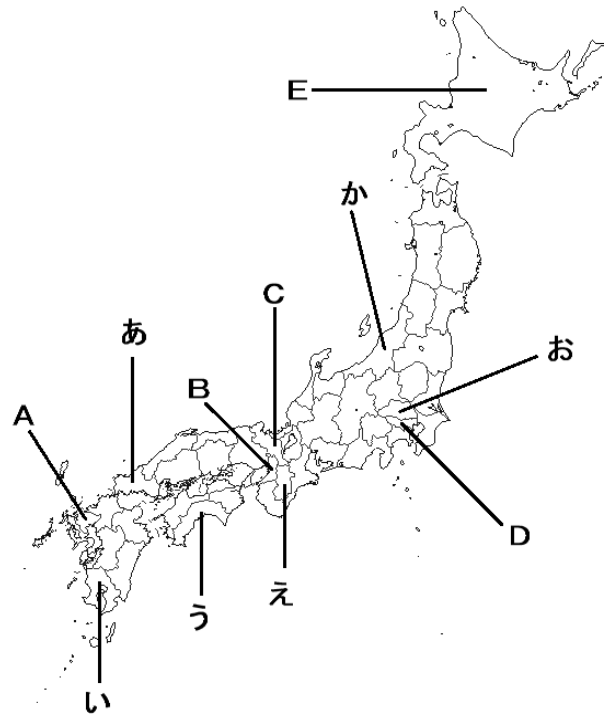
【地図】

問1 Aの地域にある弥生時代を代表する遺跡の名前を答えなさい。

問2 Bの地域には、日本最大の前方後円墳があります。この古墳の名前を答えなさい。

問3 下の写真は平安時代からCの地域で行われているお祭りの様子です。この祭りの名前を次のア～エの中から1つ選び、記号で答えなさい。

- | | | | |
|---|-------|---|------|
| ア | ねぶた祭り | イ | 七夕祭り |
| ウ | 神田祭り | エ | 祇園祭り |



問4 Dの地域に最も関わりあるものを次のア～エの中から1つ選び、記号で答えなさい。


- | | | | |
|---|------------|---|------------|
| ア | 鎌倉幕府が開かれた | イ | ペリーが来航した |
| ウ | 1859年に開港した | エ | 大森貝塚が発見された |

問5 Eの地域は、明治時代以前には何と呼ばれていたか答えなさい。

問6 1877年に新政府と士族の戦いが起こった地域をあ～かの中から1つ選び、記号で答えなさい。また、その戦いの名前を答えなさい。

問7 右の写真2の人物が明治時代に行った国会の開設のための活動のことを何というか答えなさい。また、この人物の出身地を地図中のあ～かの中から1つ選び、記号で答えなさい。

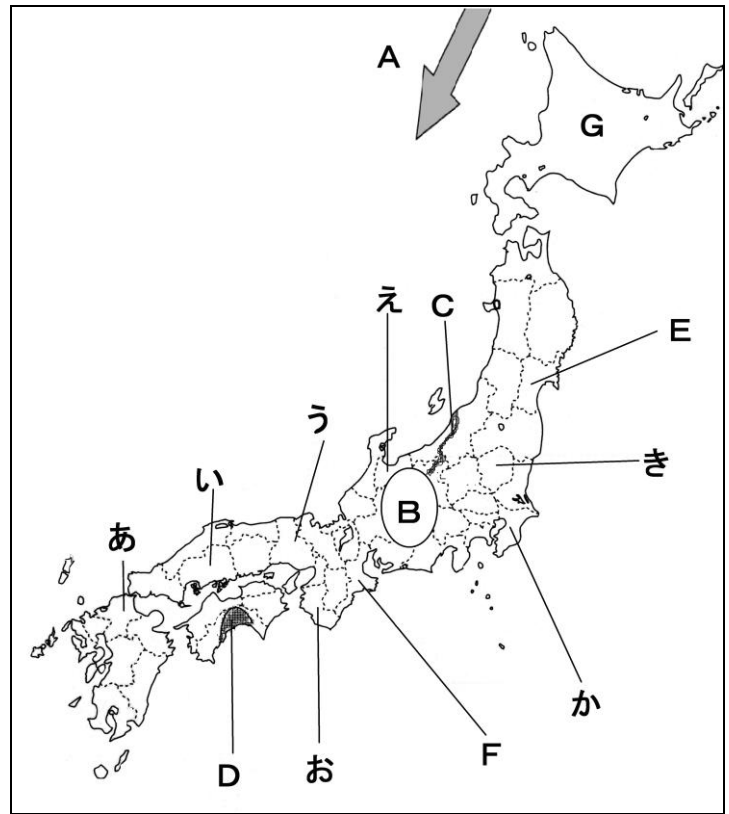
【写真2】



4

地図を見て、あとの問いに答えなさい。

【地図】



問1 Aの海流名を答えなさい。

問2 Bには「日本アルプス」がある。そのうち「南アルプス」と呼ばれている山脈名を答えなさい。

問3 Cの河川名とその河川が流れる平野名を答えなさい。

問4 Dの平野名とその平野で行われている「温暖な気候を利用して出荷時期を早める農法」のことを何というか答えなさい。

問5 EとFの都道府県名と県庁所在地名を答えなさい。

問6 次のア～エの日本の工業地帯・工業地域を西から位置する順にならびかえ

たとき、3番目にくるのはどれか。次のア～エの中から1つ選び、記号で答えなさい。

ア 京葉工業地域 イ 中京工業地帯 ウ 阪神工業地帯 エ 瀬戸内工業地域

問7 四大公害病の1つである「イタイイタイ病」について説明しなさい。ただし、地図中にある記号を使用し、発生場所を必ず説明の中に入れなさい。

問8 Gは、日本の中でも農業が盛んな地域である。この地域で、あまり栽培されていない農産物を次のア～エの中から1つ選び、記号で答えなさい。

ア じゃがいも イ なす ウ そば エ 米

問9 次の(1)・(2)の文章に関わりの深い都道府県を地図中のあ～きの中からそれぞれ1つずつ選び、記号で答えなさい。

(1) 人口は約620万人を越え、ベッドタウンとしての役割を果たしている。日本でも有数の砂浜海岸があり、梨・ネギ・落花生などの生産がさかんである。(2018年)

(2) 近年は人口の減少が目立ってきている。平野部が少なく、山地が地域の大部分を占めるため、スギ・ヒノキを中心とした林業がさかんである。(2018年)

5

あとの問いに答えなさい。

〔資料1〕 資源の輸入先

問1 資料1は、わが国の資源の輸入先の上位国を示している。(A)に共通して入る国名を答えなさい。

輸入品	1位	2位	3位
石炭	(A)	インドネシア	ロシア
原油	サウジアラビア	アラブ首長国連邦	カタール
鉄鉱石	(A)	ブラジル	カナダ
(B)	アメリカ	カナダ	ブラジル
小麦	アメリカ	カナダ	(A)

日本国製図2017/2018参照

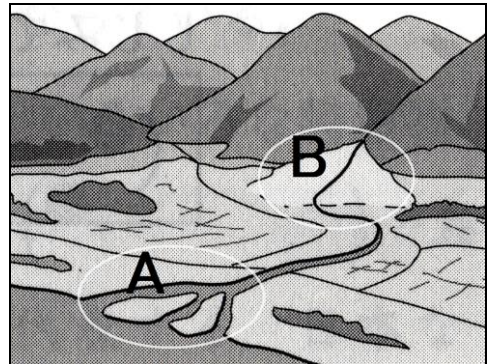
問2 下の文章は資料1の(B)に関する説明である。(B)に入る輸入品を答えなさい。

北海道や佐賀県など国内でも生産されているが、わが国の自給率は非常に低い。世界的にみると、主に家畜の飼料(エサ)や油をつくるために使用されているが、わが国の文化においては、食品として重要な役割を果たしている。

〔資料2〕

問3 資料2は、ある地形を描いたイラストである。このイラストを見て次のあとの問いに答えなさい。

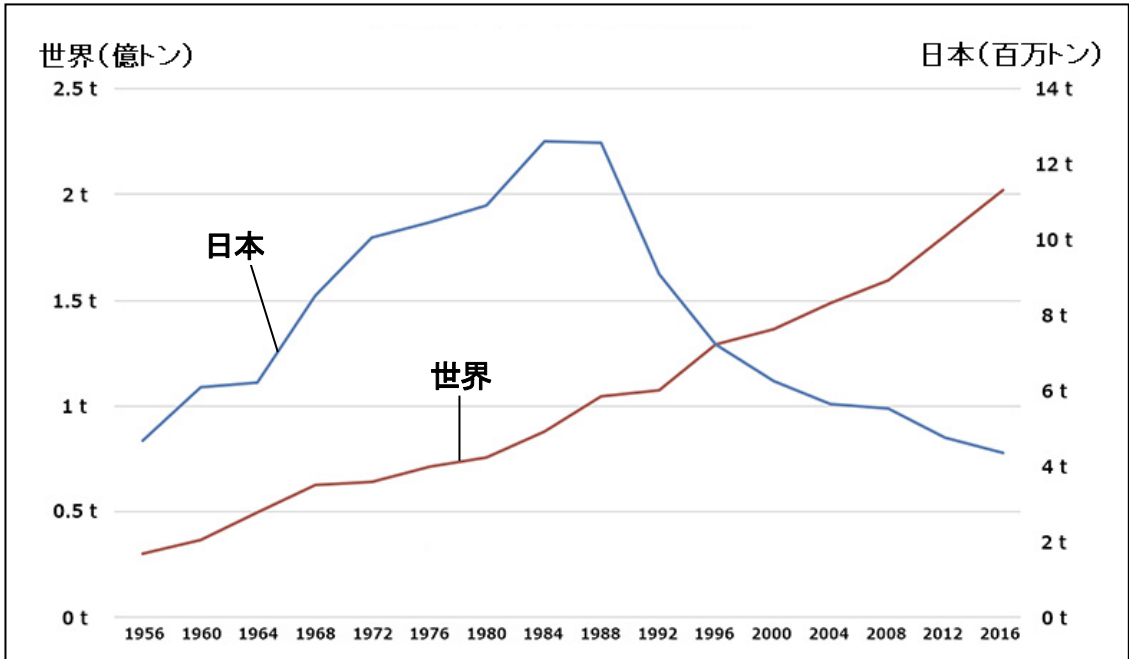
- (1) 川の河口に堆積した土砂でつくられるAのような地形を何というか答えなさい。
- (2) 山地から流れる川の出口につくられるBのような地形の土地利用について、次の文章の()にあてはまる最も適した語句を答えなさい。



()が良いため水田には向かない。しかし、果樹の栽培に適した土壌であるため果樹園として土地利用されている地域がある。

【資料3】 日本と世界の漁獲量の推移

(FAOと水産庁のデータより作成)



問4 上の資料3を参考にして日本と世界の漁獲量に関わる次のア～エの文章の中から、間違いのあるものを1つ選び、記号で答えなさい。(2016年現在)

- ア 日本の漁獲量は、ピーク時の約3分の1になっている。
- イ 世界の漁獲量は、50年前と比べると約4倍に増加している。
- ウ 日本のピーク時に漁獲量が最も多かったのは遠洋漁業であったが、現在は、ようしよく養殖漁業の漁獲量が最も多い。
- エ 日本のピーク時は約1300万トンの漁獲量に達していたが、増加傾向にあった世界全体の漁獲量よりも少なかった。

問5 2019年10月1日、しょうひぜい消費税の増税がぞうぜい行われました。このとき、しょうひしゃ消費者(商品を買う人)が戸惑うことがありました。それはどうしてですか。理由を説明し、その理由に対するあなたの意見を述べなさい。



受験番号			
------	--	--	--

令2中(2)

社会 解答用紙

1	問1	あ		い		う		
		え		お		問2		
		問3						
		問4		問5				
		問6		問7		問8		

2	問1		問2		問3	
		問4		問5		
		問6				

3	問1		問2		問3		
		問4		問5		問6	記号
		戦いの 名前		問7			記号

4	問1		問2	山脈	問3	河川 名	川	
		平野名	平野	問4	平野	農法 名		
		問5	E		市	F		市
		問6		問7				
		問8		問9	(1)		(2)	

5	問1		問2			
		問3	(1)	(2)	問4	
		問5				

受験番号			
------	--	--	--

令2中(2)

社会 解答用紙

1	問1	あ	執権	い	足利 尊氏	う	雪舟
		え	応仁の乱	お	織田 信長	問2	フビライ=ハン
	問3	例) 元寇のときに命をかけて戦ったのに十分な恩賞がもらえなかったこと。					
	問4	明	問5	守護大名			
	問6	書院造		問7	A	問8	エ

2	問1	平城京		問2	ウ	問3	土偶
	問4	ア	問5	イエス・キリスト			
	問6	例) キリシタンを見つけるために人々に踏ませた。					

3	問1	吉野ヶ里 遺跡		問2	大仙 古墳		問3	エ
	問4	エ	問5	蝦夷地		問6	記号	い
	戦いの 名前	西南戦争		問7	自由民権運動		記号	う

4	問1	リマン 海流		問2	赤石 山脈		問3	河川名	信濃 川	
	平野名	越後 平野		問4	高知	平野	農法名	促成栽培		
	問5	E	宮城 県		仙台 市	F	三重 県		津 市	
	問6	イ	問7	例) 地図中(え)の富山県の神通川流域で発生した。						
	原因物質はカドミウムで、体内に入ると骨を弱くし、骨折する人が多数出た。									
	問8	イ	問9	(1)	か	(2)	お			

5	問1	オーストラリア			問2	大豆				
	問3	(1)	三角州		(2)	水はけ		問4	ウ	
	問5	(適切な理由を入れ、適切な表現を使った文章で自分の意見を述べること。)								
		例) 飲食品を購入するときテイクアウトは税率8%、 イトインだと税率10%になること。同じ商品なのに税率が 変わるのをおかしいと思うので同じ税率にした方が良い。								