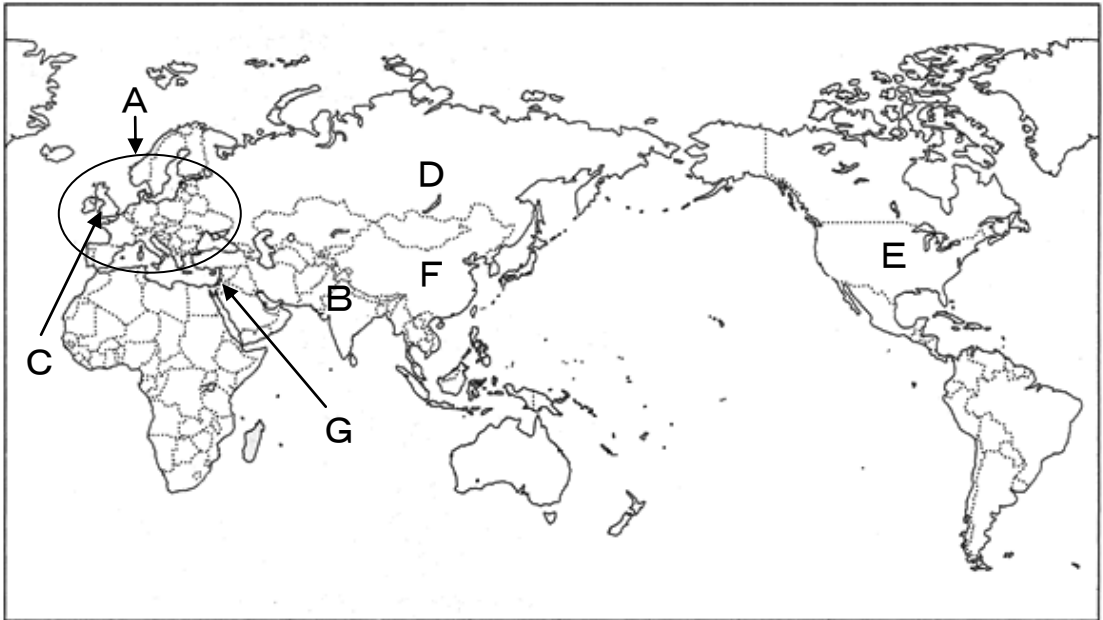


1 下の地図を参考に、次の各問いに答えなさい。

地図



問1 地図中○で囲まれたAの地域について、古代のヨーロッパ文明の遺跡ではないものを次のア～エのうちから1つ選び、記号で答えなさい。

ア




イ



ウ



エ



問2 地図のBの地域までアレクサンドロス大王が遠征した結果、ギリシアの文化が東方に広まってオリエントの文化と結びついた。この文化を何というか答えなさい。

問3 地図のC国で、1215年に国王の専制を防ぐために定められた次の文章を何というか、答えなさい。

いかなる自由民も、正当な裁判または国の法律によらなければ、逮捕^{たいほ}や監禁^{かんきん}をされたり、土地をうばわれたり、国外に追放されたり、その他の方法によって権利を侵害^{しんがい}されたりすることはない。(部分要約)

問4 地図のD国は19世紀に入ると黒海や地中海の沿岸、中央アジア、さらには中国東北部へと積極的に進出しようとした。このような動きをとった政策を何というか答えなさい。

問5 地図のE国で1775年から1783年にかけて、C国からの独立を目指す戦争が起こった。E国が独立しようとした理由を、E国・C国の実際の名称を明らかにして、簡潔に述べなさい。

問6 地図のF国でC国との貿易関係の悪化から1840年に右の写真にあるような戦争が起こった。この戦争の名称を答えなさい。



問7 地図のGの地域で1973年に起こり、日本にも石油危機の影響を与えた戦争を答えなさい。

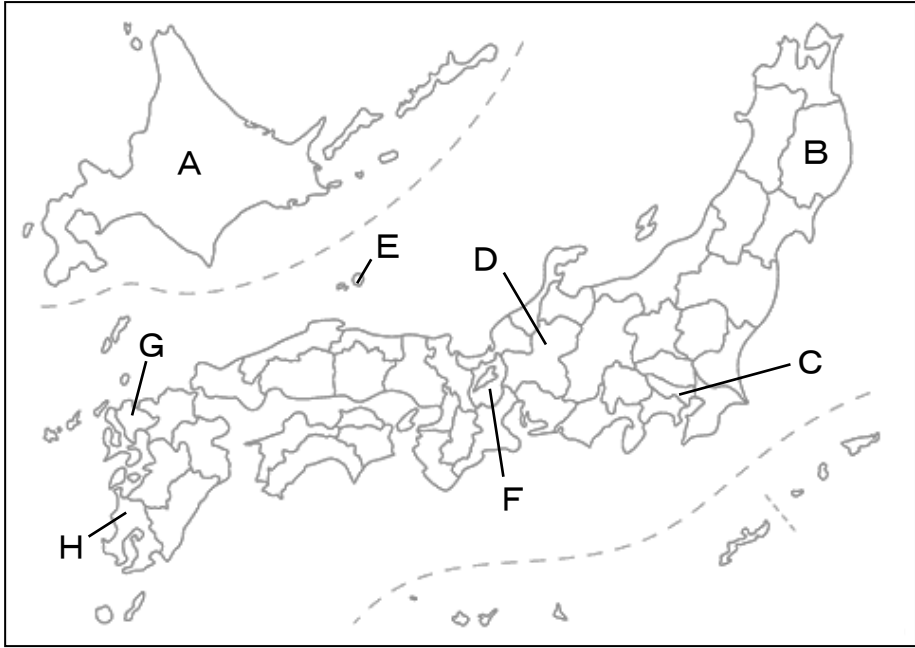
問8 次のa~cのできごとを、年代順に並べたものとして正しいものを、次のうちから選び記号で答えなさい。

記号	できごと
a	アジア=アフリカ会議が開かれ、平和十原則が採択された。
b	秦の始皇帝が中国を統一した。
c	イェルサレム奪回のために十字軍が派遣された。

- ア a→b→c
- イ a→c→b
- ウ b→a→c
- エ b→c→a
- オ c→a→b
- カ c→b→a

2 次の各問いに答えなさい。

問1 次の地図をみて、次の（1）～（8）の各問いに答えなさい。



- (1) Aについて、1669年に起きた松前藩との戦いの名称を答えなさい。
- (2) Bについて、奥州藤原氏の拠点となった場所を答えなさい。
- (3) Cについて、徳川幕府が大名家統制のために発布した法令を答えなさい。
- (4) Dについて、1600年にこの県で起きた天下分け目の戦いの名称を答えなさい。
- (5) Eについて、この地は承久の乱の^{しゅぼうしや}首謀者が配流された場所である。この戦いの首謀者を答えなさい。
- (6) Fについて、この地に織田信長により安土城が建てられた。織田信長の政策のうち、自由な営業を認め、商工業の発展をうながしたものを何というか答えなさい。
- (7) Gについて、弥生時代の大規模な^{かんごう}環濠集落跡がある遺跡の名称を答えなさい。
- (8) Hについて、1549年にこの県に上陸し、キリスト教を布教したイエズス会宣教師を答えなさい。

問2 次の年表をみて、次の(1)～(5)の各問いに答えなさい。

西暦	できごと
1853	ペリーが浦賀に来航する ↓ ア
1858	日米修好通商条約を締結する・・・・・・・・・・ A
	↓ イ
1868	新政府の基本方針を示す・・・・・・・・・・ B
	↓ ウ
1874	民選議院設立建白書を左院に提出する・・・・・・・・ C
	↓ エ
1877	鹿児島士族が反乱し、西南戦争をおこす
	↓ オ
1889	衆議院議員選挙法が成立する・・・・・・・・・・ D

(1) 「桜田門外の変」がおきた時期として正しいものを年表中の**ア～オ**から1つ選び、記号で答えなさい。

(2) **A**について、この条約ののち欧米諸国との貿易が盛んになった。当時の輸出入貿易品目第1位のを次の**ア～エ**から1つ選び、記号で答えなさい。

ア 輸出：生糸 — 輸入：毛織物 **イ** 輸出：茶 — 輸入：綿織物
ウ 輸出：海産物 — 輸入：武器 **エ** 輸出：毛織物 — 輸入：生糸

(3) **B**について、明治新政府は欧米諸国に学び富国強兵政策をとった。その内容として間違っているものを次の**ア～エ**から1つ選び、記号で答えなさい。

ア 群馬県に官営の富岡製糸場を設立し、近代工業を育成した。
イ 土地所有者に地券を発行し、地価の3%を金納させた。
ウ 江戸時代の身分制度を廃止し、武士は士族、百姓は平民とした。
エ 審査基準を満たした20歳以上の男子に兵役の義務を課した。

(4) **C**について、この出来事以降、民権派が国会開設に向け政党を結成するようになった。大隈重信が結成した政党を答えなさい。

(5) **D**について、当時の選挙権の内容を説明しなさい。

3 次の各問いに答えなさい。

問1 世界の諸地域に関する、次の(1)～(7)の各問いに答えなさい。

- (1) 右の写真は、ドイツのある都市を走る路面電車である。現在、世界各地の都市でこのように路面電車が見直されているが、それは、なぜだと考えられるか。その理由を2つ答えなさい。



- (2) 下の表はある農産物の生産上位5か国および世界生産量に占める割合を示している。A～Cに該当する作物を、下のア～エからそれぞれ選び、記号で答えなさい。

Aの生産

	国名	%
1	インド	22
2	エクアドル	11
3	ブラジル	10
4	中国	7
5	フィリピン	6

Bの生産

	国名	%
1	ブラジル	25
2	ベトナム	11
3	コロンビア	9
4	インドネシア	6
5	コートジボワール	5

Cの生産

	国名	%
1	中国	23
2	アメリカ	20
3	インド	11
4	パキスタン	10
5	ウズベキスタン	5

*統計年度は2012年。『データブック・オブ・ザ・ワールド』より作成。

ア コーヒー豆

イ カカオ豆

ウ バナナ

エ 綿花

- (3) 右の写真は、ある宗教を信仰する女性である。女性が右のような衣装を着ることを定めている宗教は何か答えなさい。



- (4) 下の時刻表は、福岡国際空港からシンガポール国際空港への航空時刻表である。この飛行機は6時間25分飛行してシンガポールへ到着した。この飛行機のシンガポール到着時刻 を答えなさい。なお、シンガポールの標準時は東経120度に設定している。また、到着時刻はシンガポール時間で、24時間制で答えなさい。

航空会社	便名	福岡発	シンガポール着
SQ	655	10:00	<input type="text" value="X"/>
		毎日運航	

*福岡空港 HP より作成

*時刻はすべて現地時間である

- (5) 世界の農業について述べた次の文ア～エのうち、**間違っているもの**を1つ選び、記号で答えなさい。

- ア 中国では、年間降水量1000mmを境に、北部で小麦、南部で米の栽培が盛んである。南部では温暖な気温と豊富な降水量のため、米の二毛作も行われる。
- イ アフリカ中央部では、焼畑農業によって人々の主食となるイモ類や雑穀が栽培されているが、この焼畑農業が地球温暖化の原因の一つであるという指摘もされている。
- ウ EUは、主な農産物に統一価格を設けたり、域外から輸入される農産物に高い関税をかけるなどの共通農業政策を行っている。
- エ 西アジアの乾燥地域では、河川の流域や地下水路が利用できる場所において、麦やなつめやしなどを栽培するオアシス農業が行われている。

- (6) 世界の鉱工業について述べた次の文ア～エのうち、**間違っているもの**を1つ選び、記号で答えなさい。

- ア ドイツは、19世紀末から河川交通を利用し、ライン川やその支流沿いに重化学工業を発展させ、ヨーロッパ最大の工業国に成長した。
- イ 南アフリカ共和国は鉱産資源が豊富で、石炭、鉄鉱石、金、レアメタルなどを産出する。また、ナイジェリアやアルジェリアでは銅を産出する。
- ウ 中国は対外開放政策を推進し、外国資本を積極的に誘致した。その結果工業化に成功し、現在はBRICsのひとつに数えられている。
- エ ロシアはかつての社会主義時代の政策によって工業が不振になったが、近年では国内で産出される原油や天然ガスの輸出量が増加し、経済は好転した。

(7) 北アメリカに関する下の地図を見て、次の①～④の各問いに答えなさい。



- ① 地図中の緯線A～Dのうち、長崎市とほぼ同じ緯度のものを1つ選びなさい。
 - ② 地図中の凡例●・▲・■はそれぞれある地下資源の分布を示している。●・▲・■にあてはまる資源名を、下のア～エからそれぞれ選び、記号で答えなさい。
- ア 銅鉱石 イ 原油 ウ 石炭 エ 鉄鉱石
- ③ 地図中Yの地域は、アメリカ合衆国のある州である。この州の名を答えなさい。
 - ④ 地図中Zの地域で盛んに栽培されている作物は何か。下のア～エから選び、記号で答えなさい。

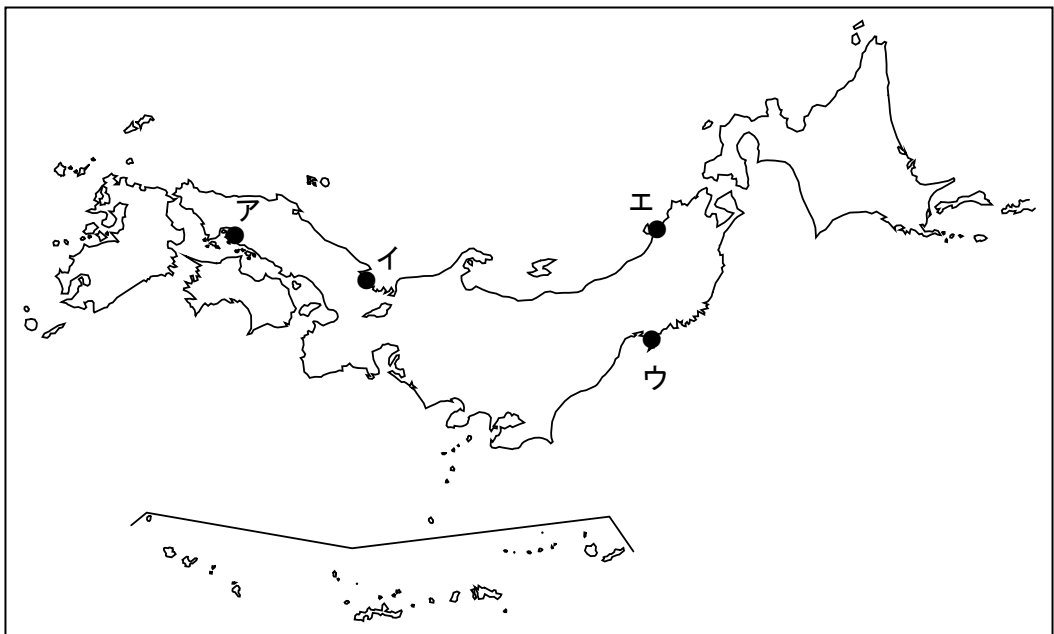
ア とうもろこし イ さとうきび ウ 綿花 エ 小麦

問2 日本に関する、次の(1)～(5)の各問いに答えなさい。

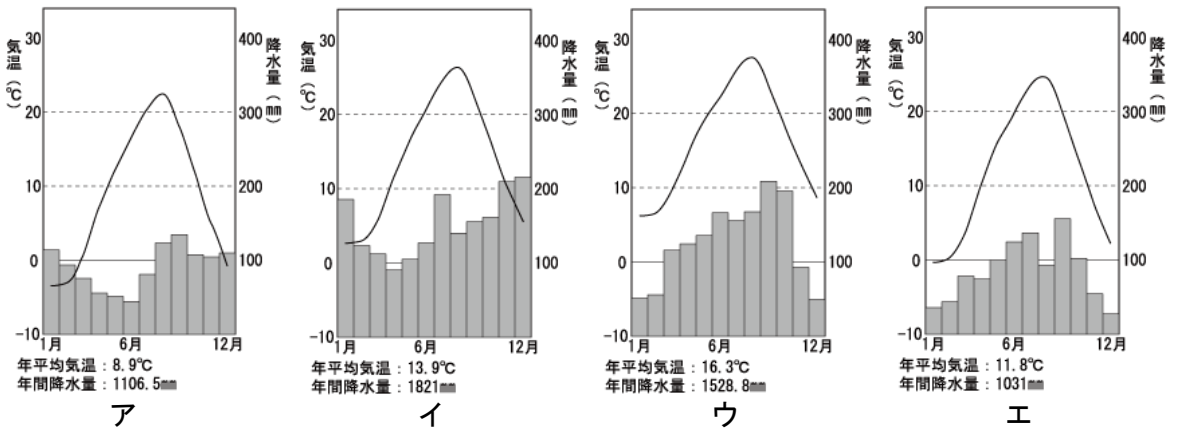
(1) 次のア～エは、日本の都道府県名と都道府県庁所在地名の組み合わせである。このうち、間違っているものを1つ選び、記号で答えなさい。

- | | | | | | |
|-------|---|-----|-------|---|-----|
| ア 静岡県 | — | 静岡市 | イ 山口県 | — | 山口市 |
| ウ 沖縄県 | — | 沖縄市 | エ 富山県 | — | 富山市 |

(2) 右の写真は日本三景の天橋立^{あまのはしだて}である。この地形は砂州^{きす}とよばれるもので、砂が向こう岸まで伸びて接岸したものである。天橋立^{あまのはしだて}の場所を、下の地図中ア～エから1つ選び、記号で答えなさい。



(3) 次のア～エの雨温図のうち、長野県松本市のものを1つ選び、記号で答えなさい。



(4) 次の表は、日本の都道府県について、それぞれの項目についての上位5位までをあらわしたものである。表中の(①)～(③)に該当する都道府県名を答えなさい。

豚の飼育頭数

	都道府県名	千頭
1	(①)	1340
2	宮崎	915
3	茨城	659
4	千葉	645
5	群馬	619

茶の収穫量

	都道府県名	百 t
1	(②)	1489
2	(①)	1192
3	三重	332
4	宮崎	174
5	京都	121

レタス収穫量

	都道府県名	千 t
1	(③)	171
2	茨城	83
3	群馬	52
4	兵庫	35
5	長崎	26

ぶどうの収穫量

	都道府県名	千 t
1	山梨	45
2	(③)	24
3	山形	20
4	岡山	15
5	福岡	9

みかんの収穫量

	都道府県名	千 t
1	和歌山	152
2	愛媛	116
3	(②)	106
4	熊本	82
5	長崎	54

りんごの収穫量

	都道府県名	千 t
1	青森	453
2	(③)	145
3	岩手	49
4	山形	44
5	福島	32

*統計年度は2012年。『データブック オブ・ザ・ワールド 2015』より作成。

- (5) 「産業の空洞化」とはどのような現象か。次の2つの語句を用いて説明しなさい。
また、解答の中で、使用した語句にはアンダーラインを引きなさい。

円高 海外

4 次の各問いに答えなさい。

問1 次の各文は、日本国憲法の条文である。() に適語を入れなさい。

第1条 天皇は、日本国の (A) であり日本国民統合の (A) であつて、この地位は、主権の存する日本国民の総意に基く。

第3条 天皇の国事に関するすべての行為には、(B) の助言と承認を必要とし、(B) が、その責任を負ふ。

第9条 ①日本国民は、正義と秩序を基調とする国際平和を誠実に希求し、国権の発動たる戦争と、武力による威嚇又は武力の行使は、(C) を解決する手段としては、永久にこれを放棄する。
②前項の目的を達するため、陸海空軍その他の戦力は、これを保持しない。国の (D) は、これを認めない。

第25条 ①すべて国民は、健康で (E) な最低限度の生活を営む権利を有する。

問2 選挙制度について述べた次の文ア～エのうち、間違っているものを1つ選び、記号で答えなさい。

- ア 大選挙区制は、一つの選挙区から複数の当選者を決めるもので、死票が多くなるという欠点がある。
- イ 日本の選挙権は20歳以上から18歳以上に引き下げられたが、成人年齢は20歳以上のままとなっている。
- ウ 比例代表選挙とは、得票に応じて各政党の議席を決める選挙で、日本ではドント式によって政党の議席数を決めている。
- エ 参議院議員選挙の際におこなわれている比例代表制は、全国を一つの単位としておこなわれている。

問3 次の表は、衆議院と参議院の比較である。表中の（ア）～（エ）に適する数字を入れよ。

	衆議院	参議院
議員定数	475人	242人
任期	（ア）年（解散あり）	（イ）年 (3年ごとに半数改選)
被選挙権	（ウ）歳以上	（エ）歳以上
選挙区	小選挙区 295 比例代表 180	選挙区 146 比例代表 96

問4 国会の仕事について述べた次の文ア～エのうち、間違っているものを1つ選び、記号で答えなさい。

- ア 予算の審議や議決をおこなう
- イ 内閣が結んだ条約を承認する
- ウ 国政調査権を行使する
- エ 内閣総理大臣を任命する

問5 国会と内閣の「抑制と均衡（チェック・アンド・バランス）」は、どのような仕組みになっているか。次の空欄 に言葉を入れ、文を完成させなさい。

衆議院が内閣不信任を議決した場合、内閣は10日以内に
 しなければならない。

問6 市場での価格について述べた次の文ア～エのうち、間違っているものを1つ選び、記号で答えなさい。

- ア 供給曲線が右側へ移動すると、価格は下がる。
- イ 独占や寡占の状態となると、価格は下がる。
- ウ 電気・ガス・水道などの価格は、市場では決められない。
- エ 需要曲線が右側へ移動すると、価格は上がる。

問7 次のア～エのうち、間接税にあたるものを1つ選び、記号で答えなさい。

ア 相続税 イ 都道府県民税 ウ 所得税 エ 消費税

問8 19世紀から20世紀にかけて、政府の役割は「小さな政府」から「大きな政府」へと変化した。これによって、どのような問題が生じたか説明しなさい。

問9 次のA～Cにあてはまる国家間協力機関を、あとのア～エからそれぞれ選び、記号で答えなさい。

A 東南アジア10カ国で構成され、東南アジアの経済・政治・安全保障などの分野で協力を進めている。

B 太平洋を取り囲む21の国もしくは地域で構成され、貿易の自由化や経済協力関係の強化が図られている。

C 北アメリカの3カ国で構成され、加盟国間での自由貿易推進などが強化されている。

ア OPEC イ APEC ウ NAFTA エ ASEAN

受験番号

番

平 29 高(1)

社 会

解答用紙

1

問 1		問 2	
問 3		問 4	
問 5			
問 6		問 7	
問 8			

2

問 1	(1)	(2)	
	(3)	(4)	
	(5)	(6)	
	(7)	(8)	
問 2	(1)	(2)	(3)
	(4)		
	(5)		

3

問 1	(1)				
	(2) A	B	C		
	(3)		(4)		
	(5)	(6)			
	(7) ①	② ●	▲	■	
	③		④		
問 2	(1)		(2)		(3)
	(4) ①		②		③
	(5)				

4

問 1	A		B			
	C		D		E	
問 2		問 3	ア	イ	ウ	エ
問 4		問 5				
問 6		問 7				
問 8						
問 9	A	B	C			

受験番号

番

平 29 高(1)

社 会

解答用紙

1

問 1	ウ	問 2	ヘレニズム文化
問 3	マグナ=カルタ (大憲章)	問 4	南下政策
問 5	アメリカの人々がイギリスに不当に政治・経済的に支配されていると考えたため。		
問 6	アヘン戦争	問 7	第四次中東戦争
問 8	エ		

2

問 1	(1) シャクシャインの戦い	(2) 平泉	
	(3) 武家諸法度	(4) 関ヶ原の戦い	
	(5) 後鳥羽上皇	(6) 楽市・楽座	
	(7) 吉野ヶ里遺跡	(8) フランシスコ=ザビエル	
問 2	(1) イ	(2) ア	(3) ウ
	(4) 立憲改進黨		
	(5) 直接国税を 15 円以上納める、満 25 歳以上の男性のみ。		

3

問 1	(1) 大気汚染の緩和につながる		交通渋滞の緩和につながる	
	(2) A ウ	B ア	C エ	
	(3) イスラム教		(4) 15 : 25	
	(5) ア	(6) イ		
	(7) ① C	② ● エ	▲ イ	■ ウ
	③ アラスカ州		④ エ	
	問 2	(1) ウ	(2) イ	(3) エ
(4) ① 鹿児島県		② 静岡県	③ 長野県	
(5) 円高によって日本でつくった工業製品が売れなくなり、日本の企業が工場を海外へ移すことで国内の産業が衰退する現象。				

4

問 1	A 象徴		B 内閣		
	C 国際紛争		D 交戦権		E 文化的
問 2	ア 3	問 3 ア 4	イ 6	ウ 25	エ 30
問 4	エ	問 5	総辞職するか衆議院を解散		
問 6	イ	問 7	エ		
問 8	政府の仕事が増えることにより、財政状況が悪化した。				
問 9	A エ	B イ	C ウ		